

ДРТ–2022
География

Вариант содержит 44 задания и состоит из части А (28 заданий) и части В (16 заданий). На выполнение всех заданий отводится 90 минут. Будьте внимательны! Желаем успеха!

Часть А

В каждом задании части А только один из предложенных ответов является верным. В бланке ответов под номером задания поставьте метку (×) в клеточке, соответствующей номеру выбранного Вами ответа.

А1. Выберите географический объект, который расположен в Южном и Восточном полушариях:

- 1) остров Хонсю;
- 2) остров Исландия;
- 3) остров Мадагаскар;
- 4) полуостров Лабрадор;
- 5) полуостров Индостан.

А2. Складчато-глыбовые горы – это:

- 1) Пиренеи;
- 2) Анды;
- 3) Гималаи;
- 4) Альпы;
- 5) Скандинавские.

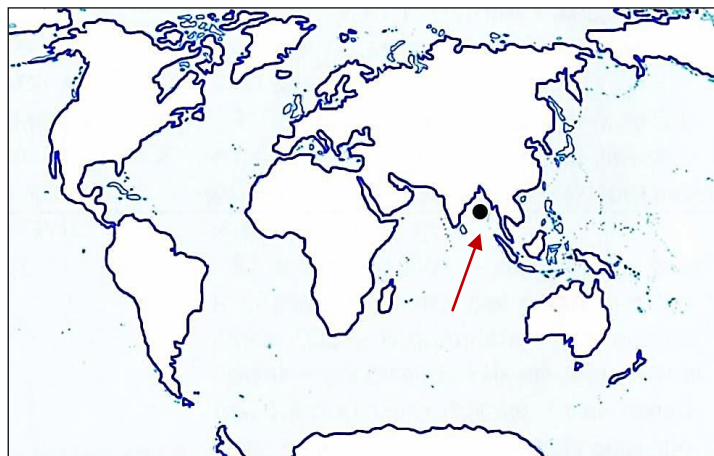
А3. На рисунке показан прибор для определения:

- 1) влажности воздуха;
- 2) температуры воздуха;
- 3) атмосферного давления;
- 4) направления ветра;
- 5) количества осадков.




А4. На картосхеме точка расположена в пределах акватории залива:

- 1) Гвинейского;
- 2) Бенгальского;
- 3) Персидского;
- 4) Бискайского;
- 5) Аденского.



А5. Выберите фотографию растения, являющегося типичным представителем флоры сухих жестколистных лесов и кустарников Северной Америки:



А6. В природной зоне Африки, выделенной на карте, распространены почвы:

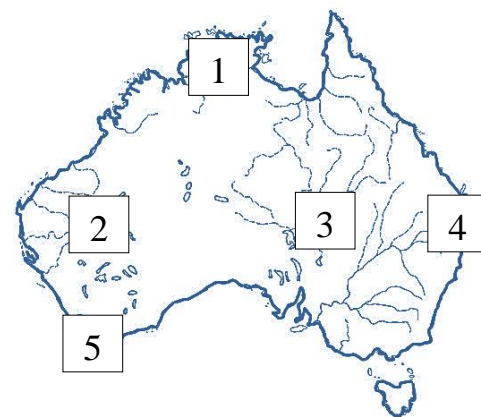
- 1) красно-желтые ферралитные;
- 2) красные, коричнево-красные и красно-бурые;
- 3) пустынные песчаные, каменистые или глинистые;
- 4) дерново-подзолистые;
- 5) бурые лесные.



А7. Выберите природный регион Австралии, обозначенный на картосхеме цифрой, для которого ВЕРНА характеристика:

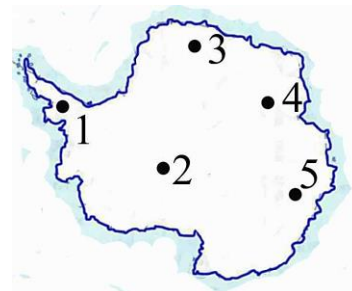
Средневысотные складчато-глыбовые горы, относящиеся к древнему складчатому поясу. Характеризуются отсутствием действующих вулканов и слабой сейсмической активностью.

- 1) 1;
- 2) 2;
- 3) 3;
- 4) 4;
- 5) 5.



А8. На картосхеме Антарктиды в пределах Антарктических Анд расположена точка с цифрой:

- 1) 1;
- 2) 2;
- 3) 3;
- 4) 4;
- 5) 5.



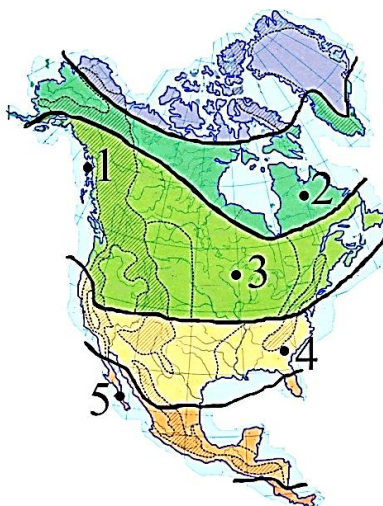
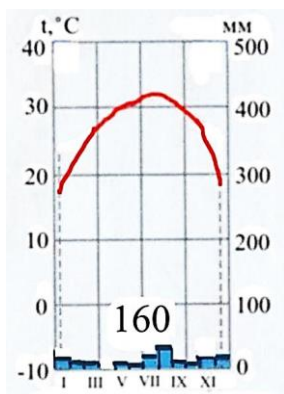
А9. В характеристике реки, выделенной на картосхеме Южной Америки, ВЕРНЫМ является утверждение:

- 1) впадает в Тихий океан;
- 2) в верхнем течении имеет равнинный характер;
- 3) по площади бассейна уступает только одной реке мира;
- 4) при впадении в океан образует дельту;
- 5) является самой полноводной рекой земного шара.



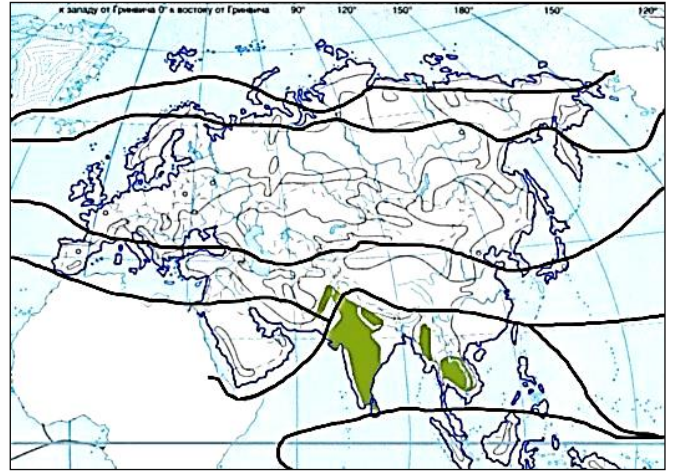
А10. Предложенная климатограмма соответствует климату в пункте, отмеченном на карте Северной Америки точкой с цифрой:

- 1) 1;
- 2) 2;
- 3) 3;
- 4) 4;
- 5) 5.



А11. Для природной зоны Евразии, выделенной на карте цветом, ВЕРНОЙ является характеристика:

- 1) расположена в пределах экваториального географического пояса;
- 2) климат формируется под влиянием тропических воздушных масс в течение года;
- 3) распространены красные, коричнево-красные и красно-бурые почвы;
- 4) произрастают лиственницы, сосны, кедр, пихты;
- 5) обитают рысь, макака, панда.



А12. Федеративным по форме политико-территориального устройства является государство:

- 1) Египет;
- 2) Кыргызстан;
- 3) Франция;
- 4) Беларусь;
- 5) Германия.

А13. В группу крупнейших государств по размерам территории входит:

- 1) Китай;
- 2) Украина;
- 3) Франция;
- 4) Казахстан;
- 5) Польша.

А14. В характеристике мировых природных ресурсов ВЕРНЫМ является утверждение:

- 1) в структуре мирового земельного фонда наименьшая доля принадлежит лесам и кустарникам;
- 2) водные ресурсы относятся к исчерпаемым возобновляемым природным ресурсам;
- 3) лесами покрыто более половины площади суши;
- 4) месторождения рудных полезных ископаемых обычно приурочены к платформам, межгорным прогибам и впадинам;
- 5) топливные ресурсы приурочены к щитам древних платформ и складчатым поясам.

А15. В характеристике мирового сельского хозяйства ВЕРНЫМ является утверждение:

- 1) сельское хозяйство относится к вторичному сектору мирового хозяйства;
- 2) основной подотраслью растениеводства как в развитых, так и в развивающихся странах является возделывание технических культур;
- 3) пшеница является главной зерновой культурой по валовым сборам;
- 4) более половины поголовья свиней сосредоточено в Азии;
- 5) более половины поголовья овец сосредоточено в Африке.

А16. В характеристике мировой промышленности ВЕРНЫМ является утверждение:

- 1) в структуре промышленности наибольшая доля принадлежит добывающей промышленности;
- 2) доля АЭС в структуре производства электроэнергии значительно превосходит долю ГЭС;
- 3) большая часть мирового производства чугуна и стали принадлежит Северной Америке;
- 4) крупнейшим производителем морских судов является Республика Корея;
- 5) в структуре производства всех видов волокон наибольшая доля принадлежит хлопковым волокнам.

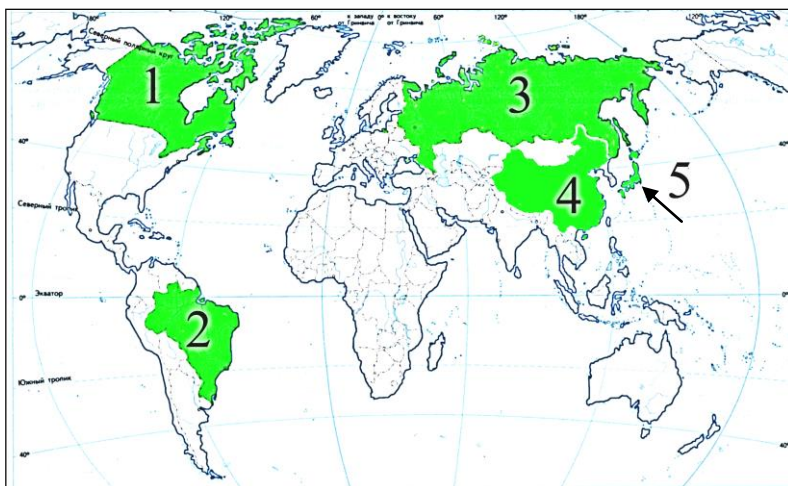
А17. В характеристике мировой сферы услуг ВЕРНЫМ является утверждение:

- 1) сфера услуг материального производства включает в себя торговлю и жилищно-коммунальное обслуживание;
- 2) в структуре грузооборота ведущая роль принадлежит железнодорожному транспорту;
- 3) крупнейшим морским портом по грузообороту является Шанхай;
- 4) в первую тройку стран – лидеров по объему экспорта услуг входит Япония;
- 5) по уровню развития информационно-коммуникационных технологий (ИКТ) между развитыми и развивающимися странами различия несущественны.

A18. Укажите государство, отмеченное на карте цифрой, для которого ВЕРНА характеристика:

Наибольшее по площади территории на континенте, входит в тройку мировых лидеров по поголовью крупного рогатого скота и свиней.

1) 1; 2) 2; 3) 3; 4) 4; 5) 5.



A19. В характеристике социально-экономического развития России ВЕРНЫМ является утверждение:

1) удельный вес мужчин в общей численности населения выше, чем женщин;
2) бóльшую часть доходов страны от экспорта дает добывающая промышленность;

3) черная металлургия развивается преимущественно на использовании импортных сырьевых ресурсов;

4) в структуре посевов зерновых культур наибольшие площади заняты под кукурузу;

5) основной подотраслью животноводства является овцеводство.

A20. В характеристике социально-экономического развития Японии ВЕРНЫМ является утверждение:

1) страна богата минерально-сырьевыми ресурсами;

2) численность населения увеличивается за счет высокого естественного прироста;

3) в производстве электроэнергии наибольшая доля принадлежит АЭС;

4) страна является мировым лидером по производству пиломатериалов;

5) бóльшую часть обрабатываемых земель занимают заливные поля, используемые для возделывания риса.

A21. В характеристике социально-экономического развития Канады ВЕРНЫМ является утверждение:

1) высокая средняя плотность населения и равномерное его размещение;

2) страна входит в число ведущих стран мира по добыче угля;

3) основу обрабатывающей промышленности составляет машиностроение;

4) в отраслевой структуре сельского хозяйства преобладает растениеводство;

5) бóльшая часть обрабатываемых земель сконцентрирована на севере страны.

A22. Для социально-экономического развития Африки ВЕРНЫМ является утверждение:

1) государства с монархической формой правления на континенте отсутствуют;

2) самый низкий уровень урбанизации характерен для стран Северной Африки;

3) в структуре обрабатывающей промышленности большинства стран ведущая роль принадлежит машиностроению;

4) растениеводство многих стран носит монокультурный характер;

5) на континенте отсутствуют трансконтинентальные автомагистрали.

A23. В характеристике социально-экономического развития Австралийского Союза ВЕРНЫМ является утверждение:

1) средняя плотность населения высокая;

2) самый большой город страны – Сидней;

3) химическая промышленность ориентирована исключительно на импортное сырье;

4) в структуре посевных площадей наибольшая доля принадлежит рису;

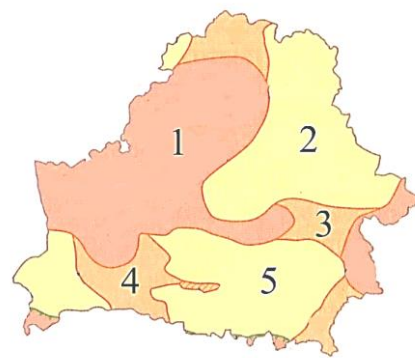
5) во внутренних перевозках грузов лидирует автомобильный транспорт.

A24. Переходная тектоническая структура Беларуси, которая разделяет Оршанскую впадину и Припятский прогиб, на картосхеме отмечена цифрой:

- 1) 1; 2) 2; 3) 3; 4) 4; 5) 5.

A25. В характеристике природы Беларуси ВЕРНЫМ является утверждение:

- 1) Ошмянская возвышенность расположена в пределах Белорусской антеклизы;
- 2) относительные превышения в пределах возвышенностей составляют не более 10 м;
- 3) низменности занимают более половины территории страны;
- 4) наибольшая относительная влажность воздуха отмечается весной и летом;
- 5) численно преобладают озера ледникового происхождения.



A26. Среди зерновых культур в Беларуси занимает наибольшие площади посевов и лидирует по валовому сбору:

- 1) рожь; 2) кукуруза; 3) ячмень; 4) пшеница; 5) овес.

A27. В характеристике промышленности Беларуси ВЕРНЫМ является утверждение:

- 1) добыча нефти ведется преимущественно в Гомельской и Витебской областях;
- 2) крупнейшая ГЭС расположена на реке Неман;
- 3) наибольшее количество ветроэнергетических установок сосредоточено в Могилевской и Гродненской областях;
- 4) крупнейшие предприятия по производству стекла размещены исключительно в крупных городах;
- 5) главным фактором размещения предприятий по производству хлебобулочных и кондитерских изделий является сырьевой фактор.

A28. Одна из ветвей нефтепровода «Дружба» на территории Беларуси проходит через города:

- 1) Кричев и Орша;
- 2) Барановичи и Лида;
- 3) Могилев и Минск;
- 4) Бобруйск и Витебск;
- 5) Солигорск и Гродно.

Часть В

Ответы, полученные при выполнении заданий части В, запишите в бланке ответов. Каждую букву, цифру пишите в отдельной клеточке (начиная с первой) по образцам, указанным в бланке. Ответ в виде слова, нескольких слов пишите без пробелов, дефиса или других разделительных знаков.

В1. Назовите течение Мирового океана, отмеченное на картосхеме стрелкой.

В бланк ответов запишите название течения. Например: Гольфстрим.



В2. Расположите последовательно с запада на восток от начального (нулевого) меридиана следующие вулканы:

- 1) Фудзияма;
- 2) Килиманджаро;
- 3) Котопахи;
- 4) Орисаба;
- 5) Этна.

Ответ запишите цифрами, соблюдая полученную последовательность. Например: 21453.

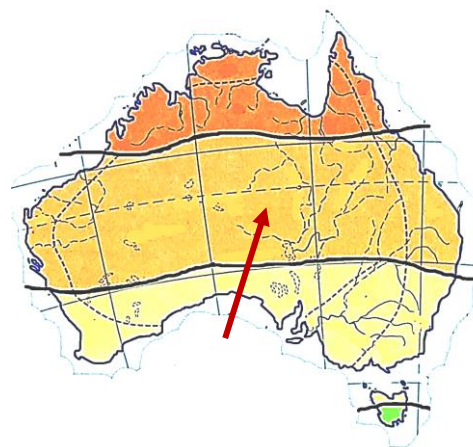
В3. Снижение или потеря биологической и экономической продуктивности используемых человечеством земель – это ... земель.

Дополните предложение и запишите ответ в виде слова (или нескольких слов) в той форме, в которой оно (они) должно(-ы) быть употреблено(-ы) в предложении.

В4. Укажите три утверждения, ВЕРНЫЕ в отношении климатического пояса Австралии, отмеченного на карте стрелкой:

- 1) климат формируется под воздействием одного типа воздушных масс в течение года;
- 2) на западном побережье формируется климат береговых пустынь (гаруа);
- 3) летом в пределах пояса господствуют экваториальные воздушные массы;
- 4) наибольшее количество осадков в пределах пояса выпадает в восточной его части;
- 5) минимальное количество осадков составляет 500–600 мм в год.

Ответ запишите цифрами (порядок записи цифр не имеет значения). Например: 135.



В5. Прочитайте приведенный ниже текст, в котором пропущен ряд слов. Вставьте на места пропусков слова из предложенного списка, подходящие по смыслу.

Антарктида находится в пределах антарктического и (А) _____ климатических поясов. Материк образовался в результате распада древней (Б) _____. Единственный действующий подледный вулкан – (В) _____. Максимальной толщины (4 776 м) ледниковый щит достигает в (Г) _____ Антарктиде

Список слов

- 1) Западная
- 2) Килауэа
- 3) Лавразии;
- 4) Восточная
- 5) Эребус
- 6) Гондвана
- 7) умеренный
- 8) субантарктический

Выбирайте слова последовательно, мысленно вставляя их на места пропусков в нужной форме. Помните, что не все слова могут быть использованы для ответа. Каждое слово может быть использовано только один раз. Ответ запишите в виде сочетания букв и цифр, соблюдая алфавитную последовательность букв. Например: А2Б1В4Г5.

В6. Укажите три ОШИБОЧНЫХ утверждения в характеристике Германии:

- 1) этнический состав населения однородный;
- 2) естественный прирост населения высокий;
- 3) автомобилестроение по объемам производства не уступает ни одной стране мира;
- 4) основную часть продукции сельского хозяйства производит растениеводство;
- 5) в структуре ВВП удельный вес сферы услуг наибольший.

Ответ запишите цифрами (порядок записи цифр не имеет значения). Например: 135.

В7. Укажите три ВЕРНЫХ утверждения в характеристике стран Балтии:

- 1) Литва, Латвия и Эстония имеют общую государственную границу с Беларусью;
- 2) характерна естественная убыль населения;
- 3) в структуре промышленности ведущая роль принадлежит металлоемкому машиностроению;
- 4) в секторе услуг создается бóльшая часть ВВП этих стран;
- 5) по производству молока на душу населения страны региона занимают лидирующие позиции в мире.

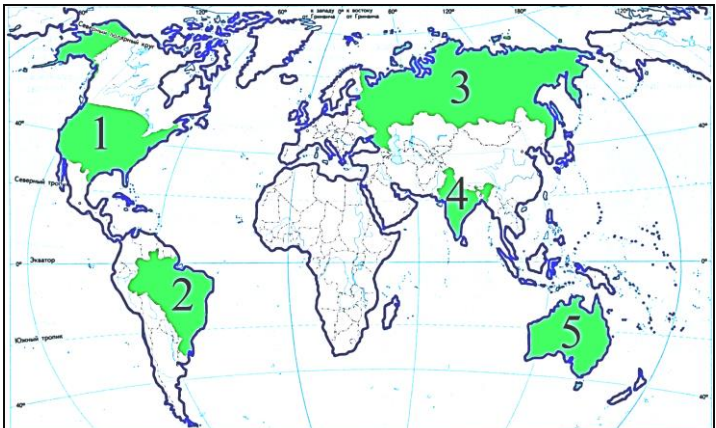
Ответ запишите цифрами (порядок записи цифр не имеет значения). Например: 135.

В8. Установите ЕДИНСТВЕННО ВЕРНОЕ соответствие:

Бассейн океана	Реки
А) Тихий Б) Индийский В) Атлантический Г) Северный Ледовитый	1) Ганг и Янцзы 2) Обь и Муррей 3) Ориноко и Амур 4) Лена и Колорадо 5) Конго и Парана

Ответ запишите в виде сочетания буквы и цифры. Например: БЗ.

В9. Установите соответствие:

Характеристика государства	Государство
А) входит в тройку мировых лидеров по производству калийных удобрений Б) входит в тройку мировых лидеров по производству стали В) входит в тройку ведущих стран – производителей геотермальной электроэнергии Г) государство с наибольшей обеспеченностью пашней на душу населения, входит в тройку мировых лидеров по поголовью овец	

Ответ запишите в виде сочетания букв и цифр, соблюдая алфавитную последовательность букв. Помните, что не все государства, отмеченные на карте, могут быть при этом использованы. Например: А2Б1В4Г5.

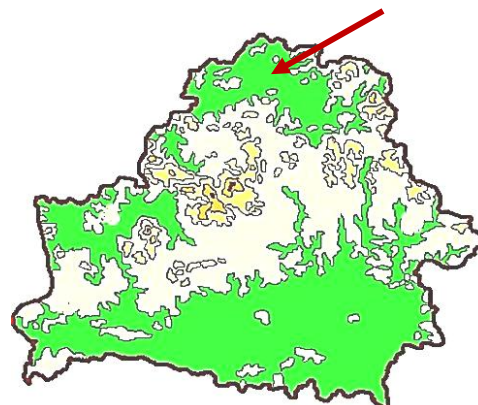
В10. В Беларуси к девонским отложениям Припятского прогиба приурочены месторождения каменной соли. Месторождения, на которых ведется ее добыча, – это ... и Старобинское.

Дополните предложение и запишите ответ в виде слова (или нескольких слов) в той форме, в которой оно (они) должно(-ы) быть употреблено(-ы) в предложении.

В11. Назовите низменность, указанную на картосхеме стрелкой.

В бланк ответов запишите название низменности.

Например: Приднепровская.



В12. Прочитайте приведенный ниже текст, в котором пропущен ряд слов. Вставьте на места пропусков слова из предложенного списка, подходящие по смыслу.

<p>Речная сеть Беларуси включает (А) _____ рек и ручьев общей протяженностью 90 600 км. Только две реки в пределах страны имеют длину более 500 км и относятся к большим рекам – это Днепр и (Б) _____. К бассейну (В) _____ моря относится большая часть территории страны. Самый низкий уровень воды в реках Беларуси отмечается (Г) _____</p>	<p>Список слов (чисел) 1) Припять 2) летом и зимой 3) Березина 4) осенью и весной 5) Черное 6) Балтийское 7) 10 900 8) 20 800</p>
--	--


Выбирайте слова (числа) последовательно, мысленно вставляя их на места пропусков в нужной форме. Помните, что не все слова (числа) могут быть использованы для ответа. Каждое слово (число) может быть использовано только один раз. Ответ запишите в виде сочетания букв и цифр, соблюдая алфавитную последовательность букв. Например: А2Б1В4Г5.

В13. Установите ЕДИНСТВЕННО ВЕРНОЕ соответствие:

Административная область Беларуси	Промышленные центры
А) Брестская Б) Витебская В) Гродненская Г) Гомельская	1) Полоцк, Борисов 2) Слоним, Пинск 3) Орша, Солигорск 4) Светлогорск, Речица 5) Барановичи, Лида

Ответ запишите в виде сочетания буквы и цифры. Например: Б3.

В14. Установите соответствие:

Область	Характеристика области
	1) наименьшая в стране по площади 2) лидирует среди областей по общей численности населения 3) более половины промышленной продукции области дает центр, в котором расположен нефтеперерабатывающий завод 4) область специализируется на производстве химических волокон, лифтов, автомобильных шин 5) является лидером среди областей по густоте железных дорог

Ответ запишите в виде сочетания букв и цифр, соблюдая алфавитную последовательность букв левого столбца. Помните, что не все данные правого столбца могут быть при этом использованы. Например: А2Б1В4Г5.

В15. На склоне горы измерено атмосферное давление в двух точках. У подножия горы (точка 1) на высоте 570 м над уровнем моря оно составило 750 мм рт. ст., а в точке 2, выше по склону, – 710 мм рт. ст. Определите абсолютную высоту рельефа в точке 2.

Ответ запишите в виде целого числа, единицы измерения не указывайте. Например: 2000.

В16. На начало года численность населения страны составляла 4,9 млн человек. К концу года она увеличилась на 26 тыс. человек. Рассчитайте естественный прирост населения с учетом того, что иммиграция превысила эмиграцию на 1 500 человек.

Ответ запишите в виде целого числа, единицы измерения не указывайте. Например: 10.