


© Министерство образования Республики Беларусь
Учреждение образования «Республиканский институт контроля знаний»






ДРТ–2022


Тематическое консультирование по географии

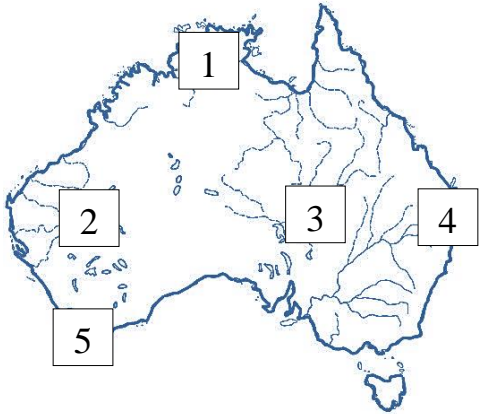
Раздел программы вступительных испытаний. Элемент содержания	Содержание задания. Ответ	Комментарий	Учебное издание
Физическая география. Острова. Полуострова	A1. Выберите географический объект, который расположен в Южном и Восточном полушариях: 1) остров Хонсю; 2) остров Исландия; 3) остров Мадагаскар; 4) полуостров Лабрадор; 5) полуостров Индостан. Ответ: 3	Найдите на карте атласа указанные в задании географические объекты. В Южном и Восточном полушариях расположен <i>остров Мадагаскар</i> (3)	Кольмакова, Е. Г. Атлас. География. Материки и океаны : учеб. пособие для 7-го кл. учреждений общ. сред. образования с рус. яз. обучения / Е. Г. Кольмакова, П. С. Лопух, О. В. Сарычева. – Минск : РУП «Белкартография», 2017. – С. 8–9

Раздел программы вступительных испытаний. Элемент содержания	Содержание задания. Ответ	Комментарий	Учебное издание
Физическая география Платформы и глобальные складчатые пояса	A2. Складчато-глыбовые горы – это: 1) Пиренеи; 4) Альпы; 2) Анды; 5) Скандинавские. 3) Гималаи; Ответ: 5	Складчато-глыбовые горы образовались при повторном горообразовании. Они расположены в области древней складчатости. Это <i>Скандинавские горы</i> (5)	Кольмакова, Е. Г. География. Материки и океаны : учеб. пособие для 7-го кл. учреждений общ. сред. образования с рус. яз. обучения / Е. Г. Кольмакова, П. С. Лопух, О. В. Сарычева. – Минск : Адукацыя і выхаванне, 2017. – § 2; Кольмакова, Е. Г. Атлас. География. Материки и океаны : учеб. пособие для 7-го кл. учреждений общ. сред. образования с рус. яз. обучения / Е. Г. Кольмакова, П. С. Лопух, О. В. Сарычева. – Минск : РУП «Белкартография», 2017. – С. 14–15
Физическая география. Атмосфера. Направление ветра	A3. На рисунке показан прибор для определения: 1) влажности воздуха; 2) температуры воздуха; 3) атмосферного давления; 4) направления ветра; 5) количества осадков. Ответ: 4	 На рисунке показан флюгер. Это прибор для определения <i>направления ветра</i> (4)	Кольмакова, Е. Г. География. Физическая география : учеб. пособие для 6-го кл. учреждений общ. сред. образования с рус. яз. обучения / Е. Г. Кольмакова, В. В. Пикулик ; под ред. Е. Г. Кольмаковой. – Минск : Народная асвета, 2016. – § 17


Раздел программы вступительных испытаний. Элемент содержания	Содержание задания. Ответ	Комментарий	Учебное издание
<p>Физическая география.</p> <p>Мировой океан и его части</p>	<p>А4. На картосхеме точка расположена в пределах акватории залива:</p> <p>1) Гвинейского; 4) Бискайского; 2) Бенгальского; 5) Аденского. 3) Персидского;</p>  <p>Ответ: 2</p>	<p>Найдите на карте атласа указанные в задании заливы. На картосхеме точка расположена в пределах <i>Бенгальского залива</i> (2)</p>	<p>Кольмакова, Е. Г. География. Физическая география : учеб. пособие для 6-го кл. учреждений общ. сред. образования с рус. яз. обучения / Е. Г. Кольмакова, В. В. Пикулик ; под ред. Е. Г. Кольмаковой. – Минск : Народная асвета, 2016. – § 21;</p> <p>Кольмакова, Е. Г. Атлас. Физическая география : учеб. пособие для 6-го кл. учреждений общ. сред. образования с рус. яз. обучения / Е. Г. Кольмакова, В. В. Пикулик. – Минск : РУП «Белкартография», 2016. – С. 10–11</p>

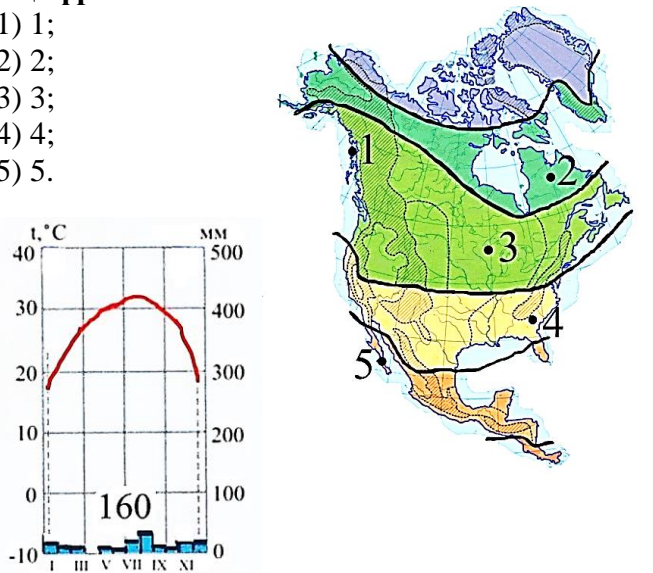
Раздел программы вступительных испытаний. Элемент содержания	Содержание задания. Ответ	Комментарий	Учебное издание
<p>Физическая география.</p> <p>Природные зоны Земли. Северная Америка</p>	<p>A5. Выберите фотографию растения, являющегося типичным представителем флоры сухих жестколистных лесов и кустарников Северной Америки:</p> <div data-bbox="376 459 1037 1305"> <div data-bbox="376 459 701 770">1) </div> <div data-bbox="701 459 1037 770">4) </div> <div data-bbox="376 770 701 1034">2) </div> <div data-bbox="701 770 1037 1034">5) </div> <div data-bbox="376 1034 701 1305">3) </div> </div> <p>Ответ: 1</p>	<p>Типичным представителем природной зоны сухих жестколистных лесов и кустарников Северной Америки является <i>гигантская секвойя (мамонтово дерево)</i> (1)</p>	<p>Кольмакова, Е. Г. География. Материки и океаны : учеб. пособие для 7-го кл. учреждений общ. сред. образования с рус. яз. обучения / Е. Г. Кольмакова, П. С. Лопух, О. В. Сарычева. – Минск : Адукацыя і выхаванне, 2017. – § 27</p>

Раздел программы вступительных испытаний. Элемент содержания	Содержание задания. Ответ	Комментарий	Учебное издание
<p>Физическая география.</p> <p>Природные зоны Африки</p>	<p>А6. В природной зоне Африки, выделенной на карте, распространены почвы:</p> <ol style="list-style-type: none"> 1) красно-желтые ферралитные; 2) красные, коричнево-красные и красно-бурые; 3) пустынные песчаные, каменистые или глинистые; 4) дерново-подзолистые; 5) бурые лесные. <p>Ответ: 1</p> 	<p>На карте Африки выделена природная зона влажных экваториальных лесов, которые растут на <i>красно-желтых ферралитных</i> (1) почвах</p>	<p>Кольмакова, Е. Г. География. Материки и океаны : учеб. пособие для 7-го кл. учреждений общ. сред. образования с рус. яз. обучения / Е. Г. Кольмакова, П. С. Лопух, О. В. Сарычева. – Минск : Адукацыя і выхаванне, 2017. – § 12;</p> <p>Кольмакова, Е. Г. Атлас. География. Материки и океаны : учеб. пособие для 7-го кл. учреждений общ. сред. образования с рус. яз. обучения / Е. Г. Кольмакова, П. С. Лопух, О. В. Сарычева. – Минск : РУП «Белкартография», 2017. – С. 24–25, 47</p>

Раздел программы вступительных испытаний. Элемент содержания	Содержание задания. Ответ	Комментарий	Учебное издание
<p>Физическая география.</p> <p>Физико-географическая характеристика Австралии</p>	<p>A7. Выберите природный регион Австралии, обозначенный на картосхеме цифрой, для которого ВЕРНА характеристика:</p> <p>Средневысотные складчато-глыбовые горы, относящиеся к древнему складчатому поясу. Характеризуются отсутствием действующих вулканов и слабой сейсмической активностью.</p> <p>1) 1; 2) 2; 3) 3; 4) 4; 5) 5.</p>  <p>Ответ: 4</p>	<p>Природный регион Австралии, который включает средневысотные складчато-глыбовые горы (Большой Водораздельный хребет), относящиеся к древнему складчатому поясу, отмечен на картосхеме <i>цифрой 4</i>. Регион характеризуется отсутствием действующих вулканов и слабой сейсмической активностью</p>	<p>Кольмакова, Е. Г. География. Материки и океаны : учеб. пособие для 7-го кл. учреждений общ. сред. образования с рус. яз. обучения / Е. Г. Кольмакова, П. С. Лопух, О. В. Сарычева. – Минск : Адукацыя і выхаванне, 2017. – § 13;</p> <p>Кольмакова, Е. Г. Атлас. География. Материки и океаны : учеб. пособие для 7-го кл. учреждений общ. сред. образования с рус. яз. обучения / Е. Г. Кольмакова, П. С. Лопух, О. В. Сарычева. – Минск : РУП «Белкартография», 2017. – С. 50</p>

Раздел программы вступительных испытаний. Элемент содержания	Содержание задания. Ответ	Комментарий	Учебное издание
<p>Физическая география.</p> <p>Физико-географическая характеристика Антарктиды</p>	<p>А8. На картосхеме Антарктиды в пределах Антарктических Анд расположена точка с цифрой:</p> <p>1) 1; 2) 2; 3) 3; 4) 4; 5) 5.</p>  <p>Ответ: 1</p>	<p>Рассмотрите карту подледного рельефа Антарктиды и найдите указанные в задании горы.</p> <p>В пределах Антарктических Анд на картосхеме расположена точка с <i>цифрой 1</i></p>	<p>Кольмакова, Е. Г. Атлас. География. Материки и океаны : учеб. пособие для 7-го кл. учреждений общ. сред. образования с рус. яз. обучения / Е. Г. Кольмакова, П. С. Лопух, О. В. Сарычева. – Минск : РУП «Белкартография», 2017. – С. 57</p>

Раздел программы вступительных испытаний. Элемент содержания	Содержание задания. Ответ	Комментарий	Учебное издание
<p>Физическая география.</p> <p>Физико-географическая характеристика Южной Америки. Внутренние воды</p>	<p>А9. В характеристике реки, выделенной на картосхеме Южной Америки, ВЕРНЫМ является утверждение:</p> <p>1) впадает в Тихий океан; 2) в верхнем течении имеет равнинный характер; 3) по площади бассейна уступает только одной реке мира; 4) при впадении в океан образует дельту; 5) является самой полноводной рекой земного шара.</p>  <p>Ответ: 5</p>	<p>На картосхеме выделена река Амазонка.</p> <p>1. Река впадает в Атлантический океан. 2. В верхнем течении имеет горный характер. 3. Обладает самым большим речным бассейном на планете. 4. При впадении в океан образует эстуарий. 5. <i>Является самой полноводной рекой земного шара</i></p>	<p>Кольмакова, Е. Г. География. Материки и океаны : учеб. пособие для 7-го кл. учреждений общ. сред. образования с рус. яз. обучения / Е. Г. Кольмакова, П. С. Лопух, О. В. Сарычева. – Минск : Адукацыя і выхаванне, 2017. – § 21;</p> <p>Кольмакова, Е. Г. Атлас. География. Материки и океаны : учеб. пособие для 7-го кл. учреждений общ. сред. образования с рус. яз. обучения / Е. Г. Кольмакова, П. С. Лопух, О. В. Сарычева. – Минск : РУП «Белкартография», 2017. – С. 61</p>

Раздел программы вступительных испытаний. Элемент содержания	Содержание задания. Ответ	Комментарий	Учебное издание
<p>Физическая география.</p> <p>Физико-географическая характеристика Северной Америки.</p> <p>Климат</p>	<p>A10. Предложенная климатограмма соответствует климату в пункте, отмеченном на карте Северной Америки точкой с цифрой:</p> <p>1) 1; 2) 2; 3) 3; 4) 4; 5) 5.</p>  <p>Ответ: 5</p>	<p>Предложенная климатограмма соответствует климату в <i>пункте 5, который находится в пределах тропического климатического пояса, где формируется климат береговых пустынь с малым количеством осадков, жарким летом и теплой зимой</i></p>	<p>Кольмакова, Е. Г. География. Материки и океаны : учеб. пособие для 7-го кл. учреждений общ. сред. образования с рус. яз. обучения / Е. Г. Кольмакова, П. С. Лопух, О. В. Сарычева. – Минск : Адукацыя і выхаванне, 2017. – § 25;</p> <p>Кольмакова, Е. Г. Атлас. География. Материки и океаны : учеб. пособие для 7-го кл. учреждений общ. сред. образования с рус. яз. обучения / Е. Г. Кольмакова, П. С. Лопух, О. В. Сарычева. – Минск : РУП «Белкартография», 2017. – С. 72</p>

Раздел программы вступительных испытаний. Элемент содержания	Содержание задания. Ответ	Комментарий	Учебное издание
<p>Физическая география.</p> <p>Физико-географическая характеристика Евразии.</p> <p>Природные зоны</p>	<p>A11. Для природной зоны Евразии, выделенной на карте цветом, ВЕРНОЙ является характеристика:</p> <p>1) расположена в пределах экваториального географического пояса;</p> <p>2) климат формируется под влиянием тропических воздушных масс в течение года;</p> <p>3) распространены красные, коричнево-красные и красно-бурые почвы;</p> <p>4) произрастают лиственницы, сосны, кедры, пихты;</p> <p>5) обитают рысь, макака, панда.</p>  <p>Ответ: 3</p>	<p>На карте Евразии выделена природная зона саванн и редколесий.</p> <p>1. Большая часть природной зоны расположена в пределах субэкваториального климатического пояса.</p> <p>2. Климат характеризуется выраженной сезонностью. Летом поступает влажный экваториальный воздух, зимой – сухой и жаркий тропический.</p> <p>3. <i>Распространены красные, коричнево-красные и красно-бурые почвы.</i></p> <p>4. Характерно преобладание травянистой растительности, среди которой растут пальмы и «дерево-роща» баньян.</p> <p>5. Рысь, макака, панда обитают во влажных смешанных лесах на восточной окраине субтропиков Азии</p>	<p>Кольмакова, Е. Г. География. Материки и океаны : учеб. пособие для 7-го кл. учреждений общ. сред. образования с рус. яз. обучения / Е. Г. Кольмакова, П. С. Лопух, О. В. Сарычева. – Минск : Адукацыя і выхаванне, 2017. – § 30, 32;</p> <p>Кольмакова, Е. Г. Атлас. География. Материки и океаны : учеб. пособие для 7-го кл. учреждений общ. сред. образования с рус. яз. обучения / Е. Г. Кольмакова, П. С. Лопух, О. В. Сарычева. – Минск : РУП «Белкартография», 2017. – С. 81–83</p>

Раздел программы вступительных испытаний. Элемент содержания	Содержание задания. Ответ	Комментарий	Учебное издание
<p>Социально-экономическая и политическая география мира.</p> <p>Государства по форме политико-территориального устройства</p>	<p>A12. Федеративным по форме политико-территориального устройства является государство:</p> <p>1) Египет; 4) Беларусь; 2) Кыргызстан; 5) Германия. 3) Франция;</p> <p>Ответ: 5</p>	<p>Из перечисленных государств федеративную форму политико-территориального устройства имеет <i>Германия</i> (5). Египет, Кыргызстан, Франция, Беларусь – унитарные государства</p>	<p>География. Страны и народы : учеб. пособие для 8-го кл. учреждений общ. сред. образования с рус. яз. обучения / П. С. Лопух [и др.]. – Минск : Адукацыя і выхаванне, 2019. – § 32</p>
<p>Социально-экономическая и политическая география мира.</p> <p>Различие государств по размерам территории</p>	<p>A13. В группу крупнейших государств по размерам территории входит:</p> <p>1) Китай; 4) Казахстан; 2) Украина; 5) Польша. 3) Франция;</p> <p>Ответ: 1</p>	<p>В группу крупнейших государств по размерам территории входят 6 государств: Россия, Канада, <i>Китай</i> (1), США, Бразилия, Австралийский Союз</p>	<p>География. Страны и народы : учеб. пособие для 8-го кл. учреждений общ. сред. образования с рус. яз. обучения / П. С. Лопух [и др.]. – Минск : Адукацыя і выхаванне, 2019. – § 3</p>

Раздел программы вступительных испытаний. Элемент содержания	Содержание задания. Ответ	Комментарий	Учебное издание
<p>Социально-экономическая и политическая география мира.</p> <p>География природных ресурсов</p>	<p>A14. В характеристике мировых природных ресурсов ВЕРНЫМ является утверждение:</p> <p>1) в структуре мирового земельного фонда наименьшая доля принадлежит лесам и кустарникам;</p> <p>2) водные ресурсы относятся к исчерпаемым возобновляемым природным ресурсам;</p> <p>3) лесами покрыто более половины площади суши;</p> <p>4) месторождения рудных полезных ископаемых обычно приурочены к платформам, межгорным прогибам и впадинам;</p> <p>5) топливные ресурсы приурочены к щитам древних платформ и складчатым поясам.</p> <p>Ответ: 2</p>	<p>1. В структуре мирового земельного фонда леса и кустарники занимают около 30 %, доля обрабатываемых земель значительно меньше (11 %).</p> <p>2. <i>Водные ресурсы относятся к исчерпаемым возобновляемым природным ресурсам.</i></p> <p>3. Лесами покрыто около 27 % площади суши.</p> <p>4. Месторождения рудных полезных ископаемых часто встречаются в местах выхода на поверхность кристаллического фундамента платформ.</p> <p>5. Топливные ресурсы имеют осадочное происхождение, поэтому их месторождения приурочены к осадочным чехлам платформ</p>	<p>География. Страны и народы : учеб. пособие для 8-го кл. учреждений общ. сред. образования с рус. яз. обучения / П. С. Лопух [и др.]. – Минск : Адукацыя і выхаванне, 2019. – § 9</p>

Раздел программы вступительных испытаний. Элемент содержания	Содержание задания. Ответ	Комментарий	Учебное издание
Социально-экономическая и политическая география мира. География сельского хозяйства	<p>A15. В характеристике мирового сельского хозяйства ВЕРНЫМ является утверждение:</p> <p>1) сельское хозяйство относится к вторичному сектору мирового хозяйства;</p> <p>2) основной подотраслью растениеводства как в развитых, так и в развивающихся странах является возделывание технических культур;</p> <p>3) пшеница является главной зерновой культурой по валовым сборам;</p> <p>4) более половины поголовья свиней сосредоточено в Азии;</p> <p>5) более половины поголовья овец сосредоточено в Африке.</p> <p>Ответ: 4</p>	<p>1. Сельское хозяйство относится к первичному сектору мирового хозяйства.</p> <p>2. Основной подотраслью растениеводства как в развитых, так и в развивающихся странах является зерновое хозяйство.</p> <p>3. Главной зерновой культурой по валовым сборам является кукуруза.</p> <p>4. <i>Более половины поголовья свиней сосредоточено в Азии.</i></p> <p>5. По поголовью овец среди регионов доминируют Азия (42 %) и Африка (26 %)</p>	<p>Антипова, Е. А. География. Социально-экономическая география мира : учеб. пособие для 10-го кл. учреждений общ. сред. образования с рус. яз. обучения / Е. А. Антипова, О. Н. Гузова. – Минск : Адукацыя і выхаванне, 2019. – § 19</p>

Раздел программы вступительных испытаний. Элемент содержания	Содержание задания. Ответ	Комментарий	Учебное издание
Социально-экономическая и политическая география мира. География промышленности	<p>A16. В характеристике мировой промышленности ВЕРНЫМ является утверждение:</p> <p>1) в структуре промышленности наибольшая доля принадлежит добывающей промышленности;</p> <p>2) доля АЭС в структуре производства электроэнергии значительно превосходит долю ГЭС;</p> <p>3) большая часть мирового производства чугуна и стали принадлежит Северной Америке;</p> <p>4) крупнейшим производителем морских судов является Республика Корея;</p> <p>5) в структуре производства всех видов волокон наибольшая доля принадлежит хлопковым волокнам.</p> <p>Ответ: 4</p>	<p>1. В структуре промышленности наибольшая доля принадлежит обрабатывающей промышленности (90 %), доля добывающей промышленности составляет 10 %.</p> <p>2. Доля АЭС в структуре электроэнергетики составляет 10 %, доля ГЭС – 16 %.</p> <p>3. Большая часть мирового производства чугуна (59 %) и стали (67 %) сосредоточена в Азии.</p> <p>4. <i>Крупнейшим производителем морских судов является Республика Корея.</i></p> <p>5. В настоящее время на химические волокна приходится 65 % мирового производства всех видов волокон, на хлопковые – 29 %</p>	<p>Антипова, Е. А. География. Социально-экономическая география мира : учеб. пособие для 10-го кл. учреждений общ. сред. образования с рус. яз. обучения / Е. А. Антипова, О. Н. Гузова. – Минск : Адукацыя і выхаванне, 2019. – § 23</p>

Раздел программы вступительных испытаний. Элемент содержания	Содержание задания. Ответ	Комментарий	Учебное издание
Социально-экономическая и политическая география мира. География сферы услуг	<p>A17. В характеристике мировой сферы услуг ВЕРНЫМ является утверждение:</p> <p>1) сфера услуг материального производства включает в себя торговлю и жилищно-коммунальное обслуживание;</p> <p>2) в структуре грузооборота ведущая роль принадлежит железнодорожному транспорту;</p> <p>3) крупнейшим морским портом по грузообороту является Шанхай;</p> <p>4) в первую тройку стран – лидеров по объему экспорта услуг входит Япония;</p> <p>5) по уровню развития информационно-коммуникационных технологий (ИКТ) между развитыми и развивающимися странами различия несущественны.</p> <p>Ответ: 3</p>	<p>1. Торговля и жилищно-коммунальное обслуживание относятся к сфере услуг в социальной сфере. Сфера услуг материального производства включает транспорт, связь, бытовое обслуживание.</p> <p>2. В структуре грузооборота ведущая роль принадлежит водному транспорту, на долю которого приходится 62 % перевозок.</p> <p>3. <i>Крупнейшим морским портом по грузообороту является Шанхай.</i></p> <p>4. В первую тройку стран – лидеров по объему экспорта услуг входят США, Великобритания, Китай.</p> <p>5. Существует значительный разрыв между развитыми и развивающимися странами по уровню развития информационно-коммуникационных технологий (ИКТ)</p>	<p>Антипова, Е. А. География. Социально-экономическая география мира : учеб. пособие для 10-го кл. учреждений общ. сред. образования с рус. яз. обучения / Е. А. Антипова, О. Н. Гузова. – Минск : Адукацыя і выхаванне, 2019. – § 27</p>

Раздел программы вступительных испытаний. Элемент содержания	Содержание задания. Ответ	Комментарий	Учебное издание
<p>Социально-экономическая и политическая география мира.</p> <p>Характеристика Бразилии</p>	<p>A18. Укажите государство, отмеченное на карте цифрой, для которого ВЕРНА характеристика:</p> <p>Наибольшее по площади территории на континенте, входит в тройку мировых лидеров по поголовью крупного рогатого скота и свиней.</p> <p>1) 1; 2) 2; 3) 3; 4) 4; 5) 5.</p>  <p>Ответ: 2</p>	<p>Наибольшее по площади территории на континенте государство, входит в тройку мировых лидеров по поголовью крупного рогатого скота и свиней. Это <i>Бразилия</i> (2)</p>	<p>География. Страны и народы : учеб. пособие для 8-го кл. учреждений общ. сред. образования с рус. яз. обучения / П. С. Лопух [и др.]. – Минск : Адукацыя і выхаванне, 2019. – § 52</p>

Раздел программы вступительных испытаний. Элемент содержания	Содержание задания. Ответ	Комментарий	Учебное издание
<p>Социально-экономическая и политическая география мира.</p> <p>Экономико-географическая характеристика России</p>	<p>A19. В характеристике социально-экономического развития России ВЕРНЫМ является утверждение:</p> <p>1) удельный вес мужчин в общей численности населения выше, чем женщин;</p> <p>2) бóльшую часть доходов страны от экспорта дает добывающая промышленность;</p> <p>3) черная металлургия развивается преимущественно на использовании импортных сырьевых ресурсов;</p> <p>4) в структуре посевов зерновых культур наибольшие площади заняты под кукурузу;</p> <p>5) основной подотраслью животноводства является овцеводство.</p> <p>Ответ: 2</p>	<p>1. Удельный вес женщин в общей численности населения России выше, чем мужчин, и составляет 53 %.</p> <p>2. <i>Бóльшую часть доходов страны от экспорта (70 %) дает добывающая промышленность.</i></p> <p>3. Черная металлургия развивается преимущественно на использовании собственных сырьевых ресурсов.</p> <p>4. В структуре посевов зерновых культур наибольшие площади заняты под пшеницу (34 %), под кукурузу занято 3 %.</p> <p>5. Основной подотраслью животноводства является разведение крупного рогатого скота молочного и мясного направлений</p>	<p>География. Страны и народы : учеб. пособие для 8-го кл. учреждений общ. сред. образования с рус. яз. обучения / П. С. Лопух [и др.]. – Минск : Адукацыя і выхаванне, 2019. – § 39</p>

Раздел программы вступительных испытаний. Элемент содержания	Содержание задания. Ответ	Комментарий	Учебное издание
<p>Социально-экономическая и политическая география мира.</p> <p>Экономико-географическая характеристика Японии</p>	<p>A20. В характеристике социально-экономического развития Японии ВЕРНЫМ является утверждение:</p> <p>1) страна богата минерально-сырьевыми ресурсами;</p> <p>2) численность населения увеличивается за счет высокого естественного прироста;</p> <p>3) в производстве электроэнергии наибольшая доля принадлежит АЭС;</p> <p>4) страна является мировым лидером по производству пиломатериалов;</p> <p>5) бóльшую часть обрабатываемых земель занимают заливные поля, используемые для возделывания риса.</p> <p>Ответ: 5</p>	<p>1. Особенностью Японии является бедность минерально-сырьевыми ресурсами.</p> <p>2. Естественный прирост населения отрицательный.</p> <p>3. В производстве электроэнергии наибольшая доля принадлежит ТЭС (60 % всей электроэнергии). На АЭС вырабатывается примерно 30 % электроэнергии.</p> <p>4. Япония уступает ряду стран по производству пиломатериалов (5-е место в мире).</p> <p>5. Бóльшую часть обрабатываемых земель занимают заливные поля, используемые для возделывания риса</p>	<p>География. Страны и народы : учеб. пособие для 8-го кл. учреждений общ. сред. образования с рус. яз. обучения / П. С. Лопух [и др.]. – Минск : Адукацыя і выхаванне, 2019. – § 41</p>

Раздел программы вступительных испытаний. Элемент содержания	Содержание задания. Ответ	Комментарий	Учебное издание
<p>Социально-экономическая и политическая география мира.</p> <p>Экономико-географическая характеристика Канады</p>	<p>A21. В характеристике социально-экономического развития Канады ВЕРНЫМ является утверждение:</p> <p>1) высокая средняя плотность населения и равномерное его размещение;</p> <p>2) страна входит в число ведущих стран мира по добыче угля;</p> <p>3) основу обрабатывающей промышленности составляет машиностроение;</p> <p>4) в отраслевой структуре сельского хозяйства преобладает растениеводство;</p> <p>5) большая часть обрабатываемых земель сконцентрирована на севере страны.</p> <p>Ответ: 3</p>	<p>1. Для Канады характерна крайне низкая плотность населения ($3,7 \text{ чел./км}^2$) и очень неравномерное его размещение. Более 90 % жителей сосредоточено в приграничной с США полосе на юге страны.</p> <p>2. В число ведущих стран мира по добыче угля входят Китай, Индия, США.</p> <p>3. Основу обрабатывающей промышленности составляет машиностроение (сельскохозяйственное и энергетическое машиностроение, производство оборудования для горнодобывающей и лесной промышленности).</p> <p>4. В отраслевой структуре сельского хозяйства преобладает животноводство.</p> <p>5. Большая часть обрабатываемых земель сконцентрирована на юге страны</p>	<p>География. Страны и народы : учеб. пособие для 8-го кл. учреждений общ. сред. образования с рус. яз. обучения / П. С. Лопух [и др.]. – Минск : Адукацыя і выхаванне, 2019. – § 48</p>


Раздел программы вступительных испытаний. Элемент содержания	Содержание задания. Ответ	Комментарий	Учебное издание
<p>Социально-экономическая и политическая география мира.</p> <p>Характеристика населения и хозяйства Африки</p>	<p>A22. Для социально-экономического развития Африки ВЕРНЫМ является утверждение:</p> <p>1) государства с монархической формой правления на континенте отсутствуют;</p> <p>2) самый низкий уровень урбанизации характерен для стран Северной Африки;</p> <p>3) в структуре обрабатывающей промышленности большинства стран ведущая роль принадлежит машиностроению;</p> <p>4) растениеводство многих стран носит монокультурный характер;</p> <p>5) на континенте отсутствуют трансконтинентальные автомагистрали.</p> <p>Ответ: 4</p>	<p>1. Среди государств Африки монархическая форма правления сохранилась только в Марокко, Лесото и Свазиленде.</p> <p>2. В Северной Африке уровень урбанизации превышает среднемировой показатель.</p> <p>3. Обрабатывающая промышленность развита слабо. Главными ее отраслями являются пищевая и легкая промышленность.</p> <p>4. <i>Растениеводство многих стран носит монокультурный характер.</i></p> <p>5. Построено несколько трансконтинентальных магистралей: Магрибская, Транссахарская, Транссахельская, создается Трансафриканская (север – юг)</p>	<p>География. Страны и народы : учеб. пособие для 8-го кл. учреждений общ. сред. образования с рус. яз. обучения / П. С. Лопух [и др.]. – Минск : Адукацыя і выхаванне, 2019. – § 55</p>
<p>Социально-экономическая и политическая география мира.</p> <p>Экономико-географическая характеристика Австралийского Союза</p>	<p>A23. В характеристике социально-экономического развития Австралийского Союза ВЕРНЫМ является утверждение:</p> <p>1) средняя плотность населения высокая;</p> <p>2) самый большой город страны – Сидней;</p> <p>3) химическая промышленность ориентирована исключительно на импортное сырье;</p> <p>4) в структуре посевных площадей наибольшая доля принадлежит рису;</p> <p>5) во внутренних перевозках грузов лидирует автомобильный транспорт.</p> <p>Ответ: 2</p>	<p>1. Средняя плотность населения в Австралийском Союзе одна из самых низких в мире – 3,2 чел./км².</p> <p>2. <i>Самый большой город страны – Сидней (более 4,5 млн человек).</i></p> <p>3. Химическая промышленность развивается в портовых городах (на базе привозной нефти) и в районах каменноугольных бассейнов.</p> <p>4. Наибольшая часть посевных площадей (3/4) занята под пшеницу.</p> <p>5. Во внутренних перевозках грузов лидирует железнодорожный транспорт</p>	<p>География. Страны и народы : учеб. пособие для 8-го кл. учреждений общ. сред. образования с рус. яз. обучения / П. С. Лопух [и др.]. – Минск : Адукацыя і выхаванне, 2019. – § 56</p>

Раздел программы вступительных испытаний. Элемент содержания	Содержание задания. Ответ	Комментарий	Учебное издание
География Беларуси. Геологическое строение	<p>A24. Переходная тектоническая структура Беларуси, которая разделяет Оршанскую впадину и Припятский прогиб, на картосхеме отмечена цифрой: 1) 1; 2) 2; 3) 3; 4) 4; 5) 5.</p>  <p>Ответ: 3</p>	<p>На картосхеме цифрами отмечены: 1 – Белорусская антеклиза; 2 – Оршанская впадина; 3 – Жлобинская седловина; 4 – Полесская седловина; 5 – Припятский прогиб.</p> <p>Переходная тектоническая структура Беларуси, которая разделяет Оршанскую впадину и Припятский прогиб (Жлобинская седловина), на картосхеме отмечена цифрой 3</p>	<p>Брилевский, М. Н. География. География Беларуси : учеб. пособие для 9-го кл. учреждений общ. сред. образования с рус. яз. обучения / М. Н. Брилевский, А. В. Климович. – Минск : Адукацыя і выхаванне, 2019. – § 5;</p> <p>Лопух, П. С. Атлас. География Беларуси : учеб. пособие для 10-го кл. учреждений общ. сред. образования с рус. яз. обучения / П. С. Лопух. – Минск : РУП «Белкартография», 2016. – С. 9</p>

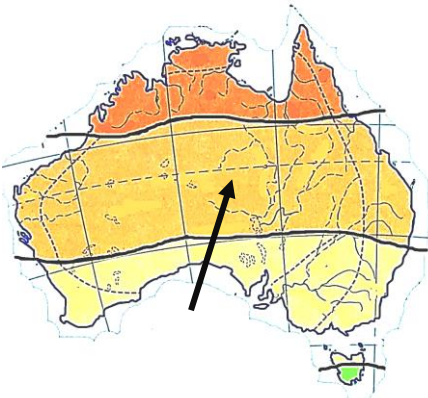
Раздел программы вступительных испытаний. Элемент содержания	Содержание задания. Ответ	Комментарий	Учебное издание
<p>География Беларуси.</p> <p>Природные условия</p>	<p>A25. В характеристике природы Беларуси ВЕРНЫМ является утверждение:</p> <p>1) Ошмянская возвышенность расположена в пределах Белорусской антеклизы; 2) относительные превышения в пределах возвышенностей составляют не более 10 м; 3) низменности занимают более половины территории страны; 4) наибольшая относительная влажность воздуха отмечается весной и летом; 5) численно преобладают озера ледникового происхождения.</p> <p>Ответ: 1</p>	<p><i>1. Ошмянская возвышенность расположена в пределах Белорусской антеклизы.</i></p> <p>2. Относительные превышения в пределах возвышенностей составляют 10–40 м, а на Минской возвышенности иногда достигают 100 м.</p> <p>3. Низменности занимают около 30 % территории страны.</p> <p>4. Наибольшая относительная влажность воздуха отмечается осенью и зимой.</p> <p>5. Численно преобладают озера старичного происхождения (около 9 000)</p>	<p>Брилевский, М. Н. География. География Беларуси : учеб. пособие для 9-го кл. учреждений общ. сред. образования с рус. яз. обучения / М. Н. Брилевский, А. В. Климович. – Минск : Адукацыя і выхаванне, 2019. – § 8;</p> <p>Лопух, П. С. Атлас. География Беларуси : учеб. пособие для 10-го кл. учреждений общ. сред. образования с рус. яз. обучения / П. С. Лопух. – Минск : РУП «Белкартография», 2016. – С. 6–7, 9</p>
<p>География Беларуси.</p> <p>Сельское хозяйство</p>	<p>A26. Среди зерновых культур в Беларуси занимает наибольшие площади посевов и лидирует по валовому сбору:</p> <p>1) рожь; 4) пшеница; 2) кукуруза; 5) овес. 3) ячмень;</p> <p>Ответ: 4</p>	<p>Среди зерновых культур в Беларуси <i>пшеница</i> (4) занимает наибольшие площади посевов и лидирует по валовому сбору</p>	<p>Брилевский, М. Н. География. География Беларуси : учеб. пособие для 9-го кл. учреждений общ. сред. образования с рус. яз. обучения / М. Н. Брилевский, А. В. Климович. – Минск : Адукацыя і выхаванне, 2019. – § 27</p>

Раздел программы вступительных испытаний. Элемент содержания	Содержание задания. Ответ	Комментарий	Учебное издание
География Беларуси. Промышленность	<p>A27. В характеристике промышленности Беларуси ВЕРНЫМ является утверждение:</p> <p>1) добыча нефти ведется преимущественно в Гомельской и Витебской областях;</p> <p>2) крупнейшая ГЭС расположена на реке Неман;</p> <p>3) наибольшее количество ветроэнергетических установок сосредоточено в Могилевской и Гродненской областях;</p> <p>4) крупнейшие предприятия по производству стекла размещены исключительно в крупных городах;</p> <p>5) главным фактором размещения предприятий по производству хлебобулочных и кондитерских изделий является сырьевой фактор.</p> <p>Ответ: 3</p>	<p>1. В Беларуси нефть добывается в основном в Гомельской области.</p> <p>2. В стране действует около 50 небольших ГЭС. Крупнейшая из них – Витебская.</p> <p>3. <i>Наибольшее количество ветроэнергетических установок сосредоточено в Могилевской и Гродненской областях.</i></p> <p>4. Самые крупные предприятия по производству стекла находятся в Костюковке около Гомеля и Березовке Лидского района. Крупные стеклозаводы размещены в Гродно и Борисове.</p> <p>5. Основное влияние на размещение предприятий по производству хлебобулочных и кондитерских изделий оказывает потребительский фактор</p>	<p>Брилевский, М. Н. География. География Беларуси : учеб. пособие для 9-го кл. учреждений общ. сред. образования с рус. яз. обучения / М. Н. Брилевский, А. В. Климович. – Минск : Адукацыя і выхаванне, 2019. – § 31</p>

Раздел программы вступительных испытаний. Элемент содержания	Содержание задания. Ответ	Комментарий	Учебное издание
География Беларуси. Транспорт	<p>A28. Одна из ветвей нефтепровода «Дружба» на территории Беларуси проходит через города:</p> <p>1) Кричев и Орша; 2) Барановичи и Лида; 3) Могилев и Минск; 4) Бобруйск и Витебск; 5) Солигорск и Гродно.</p> <p>Ответ: 1</p>	<p>Рассмотрите в атласе схему расположения магистральных нефтепроводов.</p> <p>Одна из ветвей нефтепровода «Дружба» на территории Беларуси проходит через города <i>Кричев и Оршу</i> (1) и доходит до Новополоцка</p>	<p>Брилевский, М. Н. География. География Беларуси : учеб. пособие для 9-го кл. учреждений общ. сред. образования с рус. яз. обучения / М. Н. Брилевский, А. В. Климович. – Минск : Адукацыя і выхаванне, 2019. – § 42;</p> <p>Лопух, П. С. Атлас. География Беларуси : учеб. пособие для 10-го кл. учреждений общ. сред. образования с рус. яз. обучения / П. С. Лопух. – Минск : РУП «Белкартография», 2016. – С. 50</p>

Раздел программы вступительных испытаний. Элемент содержания	Содержание задания. Ответ	Комментарий	Учебное издание
Физическая география. Географическая номенклатура. Морские течения	В1. Назовите течение Мирового океана, отмеченное на картосхеме стрелкой.  <i>В бланк ответов запишите название течения. Например: Гольфстрим.</i> Ответ: Бразильское	Найдите на карте атласа отмеченное на картосхеме течение. Это <i>Бразильское</i> течение	Кольмакова, Е. Г. Атлас. География. Материки и океаны : учеб. пособие для 7-го кл. учреждений общ. сред. образования с рус. яз. обучения / Е. Г. Кольмакова, П. С. Лопух, О. В. Сарычева. – Минск : РУП «Белкартография», 2017. – С. 10–11
Физическая география. Географическая номенклатура. Вулканы	В2. Расположите последовательно с запада на восток от начального (нулевого) меридиана следующие вулканы: 1) Фудзияма;		

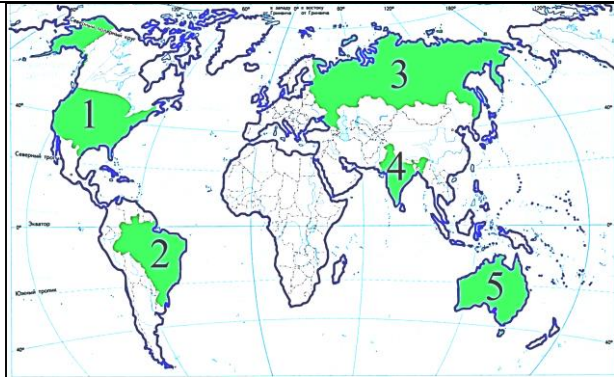


Раздел программы вступительных испытаний. Элемент содержания	Содержание задания. Ответ	Комментарий	Учебное издание
<p>Физическая география.</p> <p>Влияние деятельности человека на литосферу</p>	<p>ВЗ. Снижение или потеря биологической и экономической продуктивности используемых человечеством земель – это ... земель.</p> <p><i>Дополните предложение и запишите ответ в виде слова (или нескольких слов) в той форме, в которой оно (они) должно(-ы) быть употреблено(-ы) в предложении.</i></p> <p>Ответ: деградация</p>	<p>Снижение или потеря биологической и экономической продуктивности используемых человечеством земель – это <i>деградация</i> земель</p>	<p>Витченко, А. Н. География. Глобальные проблемы человечества : учеб. пособие для 11-го кл. учреждений общ. сред. образования с рус. яз. обучения / А. Н. Витченко, Е. А. Антипова, О. Н. Гузова. – Минск : Адукацыя і выхаванне, 2021. – § 12</p>

Раздел программы вступительных испытаний. Элемент содержания	Содержание задания. Ответ	Комментарий	Учебное издание
<p>Физическая география.</p> <p>Климат Австралии</p>	<p>В4. Укажите три утверждения, ВЕРНЫЕ в отношении климатического пояса Австралии, отмеченного на карте стрелкой:</p> <p>1) климат формируется под воздействием одного типа воздушных масс в течение года;</p> <p>2) на западном побережье формируется климат береговых пустынь (гаруа);</p> <p>3) летом в пределах пояса господствуют экваториальные воздушные массы;</p> <p>4) наибольшее количество осадков в пределах пояса выпадает в восточной его части;</p> <p>5) минимальное количество осадков составляет 500–600 мм в год.</p> <p><i>Ответ запишите цифрами (порядок записи цифр не имеет значения). Например: 135.</i></p>  <p>Ответ: 124</p>	<p>На карте Австралии отмечен тропический климатический пояс.</p> <p><i>1. В пределах тропического климатического пояса климат формируется под воздействием одного типа воздушных масс в течение года.</i></p> <p><i>2. На западном побережье формируется климат береговых пустынь (гаруа).</i></p> <p>3. Летом и зимой здесь господствуют тропические воздушные массы.</p> <p><i>4. Наибольшее количество осадков в пределах пояса выпадает в восточной его части. Это область тропического влажного типа климата с равномерным увлажнением (1 000–1 500 мм).</i></p> <p>5. В пределах тропического пустынного (континентального) типа климата и климата береговых пустынь выпадает в среднем 100–250 мм осадков в год</p>	<p>Кольмакова, Е. Г. География. Материки и океаны : учеб. пособие для 7-го кл. учреждений общ. сред. образования с рус. яз. обучения / Е. Г. Кольмакова, П. С. Лопух, О. В. Сарычева. – Минск : Адукацыя і выхаванне, 2017. – § 14;</p> <p>Кольмакова, Е. Г. Атлас. География. Материки и океаны : учеб. пособие для 7-го кл. учреждений общ. сред. образования с рус. яз. обучения / Е. Г. Кольмакова, П. С. Лопух, О. В. Сарычева. – Минск : РУП «Белкартография», 2017. – С. 52</p>

Раздел программы вступительных испытаний. Элемент содержания	Содержание задания. Ответ	Комментарий	Учебное издание		
Физическая география. Физико-географическая характеристика Антарктиды	<p>В5. Прочитайте приведенный ниже текст, в котором пропущен ряд слов. Вставьте на места пропусков слова из предложенного списка, подходящие по смыслу.</p> <table><tr><td>Антарктида находится в пределах антарктического и (А) _____ климатических поясов. Материк образовался в результате распада древней (Б) _____. Единственный действующий подледный вулкан – (В) _____. Максимальной толщины (4 776 м) ледниковый щит достигает в (Г) _____ Антарктиде</td><td><p>Список слов</p><p>1) Западная 2) Килауэа 3) Лавразия 4) Восточная 5) Эребус 6) Гондвана 7) умеренный 8) субантарктический</p></td></tr></table> <p><i>Выбирайте слова последовательно, мысленно вставляя их на места пропусков в нужной форме. Помните, что не все слова могут быть использованы для ответа. Каждое слово может быть использовано только один раз. Ответ запишите в виде сочетания букв и цифр, соблюдая алфавитную последовательность букв. Например: А2Б1В4Г5.</i></p> <p>Ответ: А8Б6В5Г4</p>	Антарктида находится в пределах антарктического и (А) _____ климатических поясов. Материк образовался в результате распада древней (Б) _____. Единственный действующий подледный вулкан – (В) _____. Максимальной толщины (4 776 м) ледниковый щит достигает в (Г) _____ Антарктиде	<p>Список слов</p> <p>1) Западная 2) Килауэа 3) Лавразия 4) Восточная 5) Эребус 6) Гондвана 7) умеренный 8) субантарктический</p>	Антарктида находится в пределах антарктического и (А) <i>субантарктического</i> (8) климатических поясов. Материк образовался в результате распада древней (Б) <i>Гондваны</i> (6). Единственный действующий подледный вулкан – (В) <i>Эребус</i> (5). Максимальной толщины (4 776 м) ледниковый щит достигает в (Г) <i>Восточной</i> (4) Антарктиде	Кольмакова, Е. Г. География. Материки и океаны : учеб. пособие для 7-го кл. учреждений общ. сред. образования с рус. яз. обучения / Е. Г. Кольмакова, П. С. Лопух, О. В. Сарычева. – Минск : Адукацыя і выхаванне, 2017. – § 16–17
Антарктида находится в пределах антарктического и (А) _____ климатических поясов. Материк образовался в результате распада древней (Б) _____. Единственный действующий подледный вулкан – (В) _____. Максимальной толщины (4 776 м) ледниковый щит достигает в (Г) _____ Антарктиде	<p>Список слов</p> <p>1) Западная 2) Килауэа 3) Лавразия 4) Восточная 5) Эребус 6) Гондвана 7) умеренный 8) субантарктический</p>				

Раздел программы вступительных испытаний. Элемент содержания	Содержание задания. Ответ	Комментарий	Учебное издание
<p>Социально-экономическая и политическая география мира.</p> <p>Экономико-географическая характеристика Германии</p>	<p>В6. Укажите три ОШИБОЧНЫХ утверждения в характеристике Германии:</p> <p>1) этнический состав населения однородный; 2) естественный прирост населения высокий; 3) автомобилестроение по объемам производства не уступает ни одной стране мира; 4) основную часть продукции сельского хозяйства производит растениеводство; 5) в структуре ВВП удельный вес сферы услуг наибольший.</p> <p><i>Ответ запишите цифрами (порядок записи цифр не имеет значения). Например: 135.</i></p> <p>Ответ: 234</p>	<p>В характеристике Германии ошибочными являются утверждения: (2) <i>естественный прирост населения высокий</i>; (3) <i>автомобилестроение по объемам производства не уступает ни одной стране мира</i>; (4) <i>основную часть продукции сельского хозяйства производит растениеводство</i>.</p> <p>В Германии на протяжении нескольких последних десятилетий смертность (11 ‰) постоянно превышала рождаемость (9 ‰) и коэффициент естественного прироста был отрицательным. Общая численность населения растет за счет притока иммигрантов.</p> <p>В тройку ведущих стран – производителей легковых автомобилей входят Китай, Япония, Германия.</p> <p>Основную часть (70 %) продукции сельского хозяйства производит животноводство</p>	<p>География. Страны и народы : учеб. пособие для 8-го кл. учреждений общ. сред. образования с рус. яз. обучения / П. С. Лопух [и др.]. – Минск : Адукацыя і выхаванне, 2019. – § 32</p>




Раздел программы вступительных испытаний. Элемент содержания	Содержание задания. Ответ	Комментарий	Учебное издание												
Социально-экономическая и политическая география мира. Экономико-географическая характеристика стран Балтии	В7. Укажите три ВЕРНЫХ утверждения в характеристике стран Балтии: 1) Литва, Латвия и Эстония имеют общую государственную границу с Беларусью; 2) характерна естественная убыль населения; 3) в структуре промышленности ведущая роль принадлежит металлоемкому машиностроению; 4) в секторе услуг создается бóльшая часть ВВП этих стран; 5) по производству молока на душу населения страны региона занимают лидирующие позиции в мире. <i>Ответ запишите цифрами (порядок записи цифр не имеет значения). Например: 135.</i> Ответ: 245	1. С Беларусью общую государственную границу имеют Литва и Латвия. 2. Для стран региона характерна естественная убыль населения. 3. Развивается преимущественно неметаллоемкое машиностроение. Его продукция – радиотехника, приборы и оборудование для промышленности и сельского хозяйства. 4. В секторе услуг создается бóльшая часть ВВП этих стран. 5. По производству молока на душу населения страны региона занимают лидирующие позиции в мире	География. Страны и народы учеб. пособие для 8-го кл. учреждений общ. сред. образования с рус. яз. обучения / П. С. Лопух [и др.]. – Минск : Адукацыя і выхаванне, 2019. – § 31												
Физическая география. Гидросфера. Поверхностные воды	В8. Установите ЕДИНСТВЕННО ВЕРНОЕ соответствие: <table><tr><th>Бассейн океана</th><th>Реки</th></tr><tr><td>А) Тихий</td><td>1) Ганг и Янцзы</td></tr><tr><td>Б) Индийский</td><td>2) Обь и Муррей</td></tr><tr><td>В) Атлантический</td><td>3) Ориноко и Амур</td></tr><tr><td>Г) Северный Ледовитый</td><td>4) Лена и Колорадо</td></tr><tr><td></td><td>5) Конго и Парана</td></tr></table> <i>Ответ запишите в виде сочетания буквы и цифры. Например: Б3.</i> Ответ: В5	Бассейн океана	Реки	А) Тихий	1) Ганг и Янцзы	Б) Индийский	2) Обь и Муррей	В) Атлантический	3) Ориноко и Амур	Г) Северный Ледовитый	4) Лена и Колорадо		5) Конго и Парана	Перечисленные в задании реки относятся к бассейнам океанов: А. Тихий – Янцзы, Амур, Колорадо; Б. Индийский – Ганг, Муррей; В. Атлантический – Ориноко, Конго, Парана; Г. Северный Ледовитый – Обь, Лена. Единственно верное соответствие – В5 (Атлантический океан – Конго, Парана)	Кольмакова, Е. Г. Атлас. Физическая география : учеб. пособие для 6-го кл. учреждений общ. сред. образования с рус. яз. обучения / Е. Г. Кольмакова, В. В. Пикулик. – Минск : РУП «Белкартография», 2016. – С. 24–25
Бассейн океана	Реки														
А) Тихий	1) Ганг и Янцзы														
Б) Индийский	2) Обь и Муррей														
В) Атлантический	3) Ориноко и Амур														
Г) Северный Ледовитый	4) Лена и Колорадо														
	5) Конго и Парана														

Раздел программы вступительных испытаний. Элемент содержания	Содержание задания. Ответ	Комментарий	Учебное издание							
Социально-экономическая и политическая география мира. Мировое хозяйство. Комплексная географическая характеристика стран	<p>В9. Установите соответствие:</p> <table><tr><th>Характеристика государства</th></tr><tr><td>А) входит в тройку мировых лидеров по производству калийных удобрений</td></tr><tr><td>Б) входит в тройку мировых лидеров по производству стали</td></tr><tr><td>В) входит в тройку ведущих стран – производителей геотермальной электроэнергии</td></tr><tr><td>Г) государство с наибольшей обеспеченностью пашней на душу населения, входит в тройку мировых лидеров по поголовью овец</td></tr></table> <table><tr><th>Государство</th></tr><tr><td></td></tr></table> <p>Ответ запишите в виде сочетания букв и цифр, соблюдая алфавитную последовательность букв. Помните, что не все государства, отмеченные на карте, могут быть при этом использованы. Например: А2Б1В4Г5.</p> <p>Ответ: АЗБ4В1Г5</p>	Характеристика государства	А) входит в тройку мировых лидеров по производству калийных удобрений	Б) входит в тройку мировых лидеров по производству стали	В) входит в тройку ведущих стран – производителей геотермальной электроэнергии	Г) государство с наибольшей обеспеченностью пашней на душу населения, входит в тройку мировых лидеров по поголовью овец	Государство		<p>А. Входит в тройку мировых лидеров по производству калийных удобрений – <i>Россия</i> (3).</p> <p>Б. Входит в тройку мировых лидеров по производству стали – <i>Индия</i> (4).</p> <p>В. Входит в тройку ведущих стран – производителей геотермальной электроэнергии – <i>США</i> (1)</p> <p>Г. Государство с наибольшей обеспеченностью пашней на душу населения, входит в тройку мировых лидеров по поголовью овец – <i>Австралийский Союз</i> (5)</p> <p>Характеристика Бразилии (2) в задании отсутствует</p>	<p>География. Страны и народы учеб. пособие для 8-го кл. учреждений общ. сред. образования с рус. яз. обучения / П. С. Лопух [и др.]. – Минск : Адукацыя і выхаванне, 2019. – § 39, 43, 56;</p> <p>Антипова, Е. А. География. Социально-экономическая география мира : учеб. пособие для 10-го кл. учреждений общ. сред. образования с рус. яз. обучения / Е. А. Антипова, О. Н. Гузова. – Минск : Адукацыя і выхаванне, 2019. – § 21–22, 24</p>
Характеристика государства										
А) входит в тройку мировых лидеров по производству калийных удобрений										
Б) входит в тройку мировых лидеров по производству стали										
В) входит в тройку ведущих стран – производителей геотермальной электроэнергии										
Г) государство с наибольшей обеспеченностью пашней на душу населения, входит в тройку мировых лидеров по поголовью овец										
Государство										
										

Раздел программы вступительных испытаний. Элемент содержания	Содержание задания. Ответ	Комментарий	Учебное издание
География Беларуси. Полезные ископаемые	<p>В10. В Беларуси к девонским отложениям Припятского прогиба приурочены месторождения каменной соли. Месторождения, на которых ведется ее добыча, – это ... и Старобинское.</p> <p><i>Дополните предложение и запишите ответ в виде слова (или нескольких слов) в той форме, в которой оно (они) должно(-ы) быть употреблено(-ы) в предложении.</i></p> <p>Ответ: Мозырское</p>	<p>В Беларуси к девонским отложениям Припятского прогиба приурочены месторождения каменной соли. Месторождения, на которых ведется ее добыча, – это <i>Мозырское</i> и Старобинское</p>	<p>Брилевский, М. Н. География. География Беларуси : учеб. пособие для 9-го кл. учреждений общ. сред. образования с рус. яз. обучения / М. Н. Брилевский, А. В. Климович. – Минск : Адукацыя і выхаванне, 2019. – § 7</p>
География Беларуси. Рельеф	<p>В11. Назовите низменность, указанную на картосхеме стрелкой.</p>  <p><i>В бланк ответов запишите название низменности. Например: Приднэпровская.</i></p> <p>Ответ: Полотцкая</p>	<p>Рассмотрите физическую карту Беларуси. Найдите отмеченную в задании низменность. Это <i>Полотцкая</i> низменность</p>	<p>Лопух, П. С. Атлас. География Беларуси : учеб. пособие для 10-го кл. учреждений общ. сред. образования с рус. яз. обучения / П. С. Лопух. – Минск : РУП «Белкартографія», 2016. – С. 6–7</p>

Раздел программы вступительных испытаний. Элемент содержания	Содержание задания. Ответ	Комментарий	Учебное издание		
География Беларуси. Поверхностные воды	<p>В12. Прочитайте приведенный ниже текст, в котором пропущен ряд слов. Вставьте на места пропусков слова из предложенного списка, подходящие по смыслу.</p> <table><tr><td>Речная сеть Беларуси включает (А) ____ рек и ручьев общей протяженностью 90 600 км. Только две реки в пределах страны имеют длину более 500 км и относятся к большим рекам – это Днепр и (Б) _____. К бассейну (В) _____ моря относится бо́льшая часть территории страны. Самый низкий уровень воды в реках Беларуси отмечается (Г) _____</td><td>Список слов (чисел) 1) Припять 2) летом и зимой 3) Березина 4) осенью и весной 5) Черное 6) Балтийское 7) 10 900 8) 20 800</td></tr></table> <p><i>Выбирайте слова (числа) последовательно, мысленно вставляя их на места пропусков в нужной форме. Помните, что не все слова (числа) могут быть использованы для ответа. Каждое слово (число) может быть использовано только один раз. Ответ запишите в виде сочетания букв и цифр, соблюдая алфавитную последовательность букв. Например: А2Б1В4Г5.</i></p> <p>Ответ: А8Б3В5Г2</p>	Речная сеть Беларуси включает (А) ____ рек и ручьев общей протяженностью 90 600 км. Только две реки в пределах страны имеют длину более 500 км и относятся к большим рекам – это Днепр и (Б) _____. К бассейну (В) _____ моря относится бо́льшая часть территории страны. Самый низкий уровень воды в реках Беларуси отмечается (Г) _____	Список слов (чисел) 1) Припять 2) летом и зимой 3) Березина 4) осенью и весной 5) Черное 6) Балтийское 7) 10 900 8) 20 800	Речная сеть Беларуси включает (А) 20 800 (8) рек и ручьев общей протяженностью 90 600 км. Только две реки в пределах страны имеют длину более 500 км и относятся к большим рекам – это Днепр и (Б) <i>Березина</i> (3). К бассейну (В) <i>Черного</i> (5) моря относится бо́льшая часть территории страны. Самый низкий уровень воды в реках Беларуси отмечается (Г) <i>летом и зимой</i> (2)	Брилевский, М. Н. География. География Беларуси : учеб. пособие для 9-го кл. учреждений общ. сред. образования с рус. яз. обучения / М. Н. Брилевский, А. В. Климович. – Минск : Адукацыя і выхаванне, 2019. – § 10; Лопух, П. С. Атлас. География Беларуси : учеб. пособие для 10-го кл. учреждений общ. сред. образования с рус. яз. обучения / П. С. Лопух. – Минск : РУП «Белкартография», 2016. – С. 16
Речная сеть Беларуси включает (А) ____ рек и ручьев общей протяженностью 90 600 км. Только две реки в пределах страны имеют длину более 500 км и относятся к большим рекам – это Днепр и (Б) _____. К бассейну (В) _____ моря относится бо́льшая часть территории страны. Самый низкий уровень воды в реках Беларуси отмечается (Г) _____	Список слов (чисел) 1) Припять 2) летом и зимой 3) Березина 4) осенью и весной 5) Черное 6) Балтийское 7) 10 900 8) 20 800				

Раздел программы вступительных испытаний. Элемент содержания	Содержание задания. Ответ	Комментарий	Учебное издание												
География Беларуси. Промышленные центры	В13. Установите ЕДИНСТВЕННО ВЕРНОЕ соответствие: <table><tr><th>Административная область Беларуси</th><th>Промышленные центры</th></tr><tr><td>А) Брестская</td><td>1) Полоцк, Борисов</td></tr><tr><td>Б) Витебская</td><td>2) Слоним, Пинск</td></tr><tr><td>В) Гродненская</td><td>3) Орша, Солигорск</td></tr><tr><td>Г) Гомельская</td><td>4) Светлогорск, Речица</td></tr><tr><td></td><td>5) Барановичи, Лида</td></tr></table> <p>Ответ запишите в виде сочетания буквы и цифры. Например: Б3.</p> <p>Ответ: Г4</p>	Административная область Беларуси	Промышленные центры	А) Брестская	1) Полоцк, Борисов	Б) Витебская	2) Слоним, Пинск	В) Гродненская	3) Орша, Солигорск	Г) Гомельская	4) Светлогорск, Речица		5) Барановичи, Лида	Перечисленные в задании промышленные центры расположены в административных областях Беларуси: А. Брестская – Пинск, Барановичи; Б. Витебская – Полоцк, Орша; В. Гродненская – Слоним, Лида; Г. Гомельская – Светлогорск, Речица. Города Борисов и Солигорск расположены в Минской области. Единственно верное соответствие – Г4 (Гомельская область – Светлогорск, Речица)	Лопух, П. С. Атлас. География Беларуси: учеб. пособие для 10-го кл. учреждений общ. сред. образования с рус. яз. обучения / П. С. Лопух. – Минск : РУП «Белкартография», 2016. – С. 4–5
Административная область Беларуси	Промышленные центры														
А) Брестская	1) Полоцк, Борисов														
Б) Витебская	2) Слоним, Пинск														
В) Гродненская	3) Орша, Солигорск														
Г) Гомельская	4) Светлогорск, Речица														
	5) Барановичи, Лида														

Раздел программы вступительных испытаний. Элемент содержания	Содержание задания. Ответ	Комментарий	Учебное издание				
География Беларуси. Административные области	<p>В14. Установите соответствие:</p> <table><tr><th>Область</th><th>Характеристика области</th></tr><tr><td></td><td>1) наименьшая в стране по площади 2) лидирует среди областей по общей численности населения 3) более половины промышленной продукции области дает центр, в котором расположен нефтеперерабатывающий завод 4) область специализируется на производстве химических волокон, лифтов, автомобильных шин 5) является лидером среди областей по густоте железных дорог</td></tr></table> <p>Ответ запишите в виде сочетания букв и цифр, соблюдая алфавитную последовательность букв левого столбца. Помните, что не все данные правого столбца могут быть при этом использованы. Например: А2Б1В4Г5.</p> <p>Ответ: АЗБ2В4Г5</p>	Область	Характеристика области		1) наименьшая в стране по площади 2) лидирует среди областей по общей численности населения 3) более половины промышленной продукции области дает центр, в котором расположен нефтеперерабатывающий завод 4) область специализируется на производстве химических волокон, лифтов, автомобильных шин 5) является лидером среди областей по густоте железных дорог	<p>На картосхеме отмечены административные области Беларуси: Витебская (А), Минская (Б), Могилевская (В), Брестская (Г).</p> <p>А. В Витебской области более половины промышленной продукции дает центр (Новополоцк), в котором расположен нефтеперерабатывающий завод (3).</p> <p>Б. Минская область лидирует среди областей по общей численности населения (2).</p> <p>В. Могилевская область специализируется на производстве химических волокон, лифтов, автомобильных шин (4).</p> <p>Г. Брестская область является лидером среди областей по густоте железных дорог (5)</p>	Брилевский, М. Н. География. География Беларуси : учеб. пособие для 9-го кл. учреждений общ. сред. образования с рус. яз. обучения / М. Н. Брилевский, А. В. Климович. – Минск : Адукацыя і выхаванне, 2019. – § 44–50
Область	Характеристика области						
	1) наименьшая в стране по площади 2) лидирует среди областей по общей численности населения 3) более половины промышленной продукции области дает центр, в котором расположен нефтеперерабатывающий завод 4) область специализируется на производстве химических волокон, лифтов, автомобильных шин 5) является лидером среди областей по густоте железных дорог						

Раздел программы вступительных испытаний. Элемент содержания	Содержание задания. Ответ	Комментарий	Учебное издание
Физическая география. Атмосферное давление	В15. На склоне горы измерено атмосферное давление в двух точках. У подножия горы (точка 1) на высоте 570 м над уровнем моря оно составило 750 мм рт. ст., а в точке 2, выше по склону, – 710 мм рт. ст. Определите абсолютную высоту рельефа в точке 2. <i>Ответ запишите в виде целого числа, единицы измерения не указывайте. Например: 2000.</i> Ответ: 1050	С высотой атмосферное давление понижается: в среднем на 1 мм рт. ст. на каждые 12 м. Атмосферное давление с поднятием вверх по склону от точки 1 к точке 2 уменьшилось на 40 мм рт. ст. (750 – 710). Точка 2 относительно точки 1 расположена выше на 480 м (12 · 40). Абсолютная высота рельефа в точке 2 составит 1 050 м (570 + 480)	Кольмакова, Е. Г. География. Физическая география : учеб. пособие для 6-го кл. учреждений общ. сред. образования с рус. яз. обучения / Е. Г. Кольмакова, В. В. Пикулик ; под ред. Е. Г. Кольмаковой. – Минск : Народная асвета, 2016. – § 16
Социально- экономическая и политическая география мира. Численность населения мира и его динамика. Изменение численности населения с учетом естественного и механического движения	В16. На начало года численность населения страны составляла 4,9 млн человек. К концу года она увеличилась на 26 тыс. человек. Рассчитайте естественный прирост населения с учетом того, что иммиграция превысила эмиграцию на 1 500 человек. <i>Ответ запишите в виде целого числа, единицы измерения не указывайте. Например: 10.</i> Ответ: 5	За счет естественного прироста численность населения страны за год увеличилась на 24 500 человек: $26\,000 - 1\,500 = 24\,500$, $4\,900\,000 : 1\,000 \cdot x = 24\,500$, где x – естественный прирост населения; $x = 24\,500 : 4\,900 = 5 (\text{‰})$	География. Страны и народы : учеб. пособие для 8-го кл. учреждений общ. сред. образования с рус. яз. обучения / П. С. Лопух [и др.]. – Минск : Адукацыя і выхаванне, 2019. – § 5